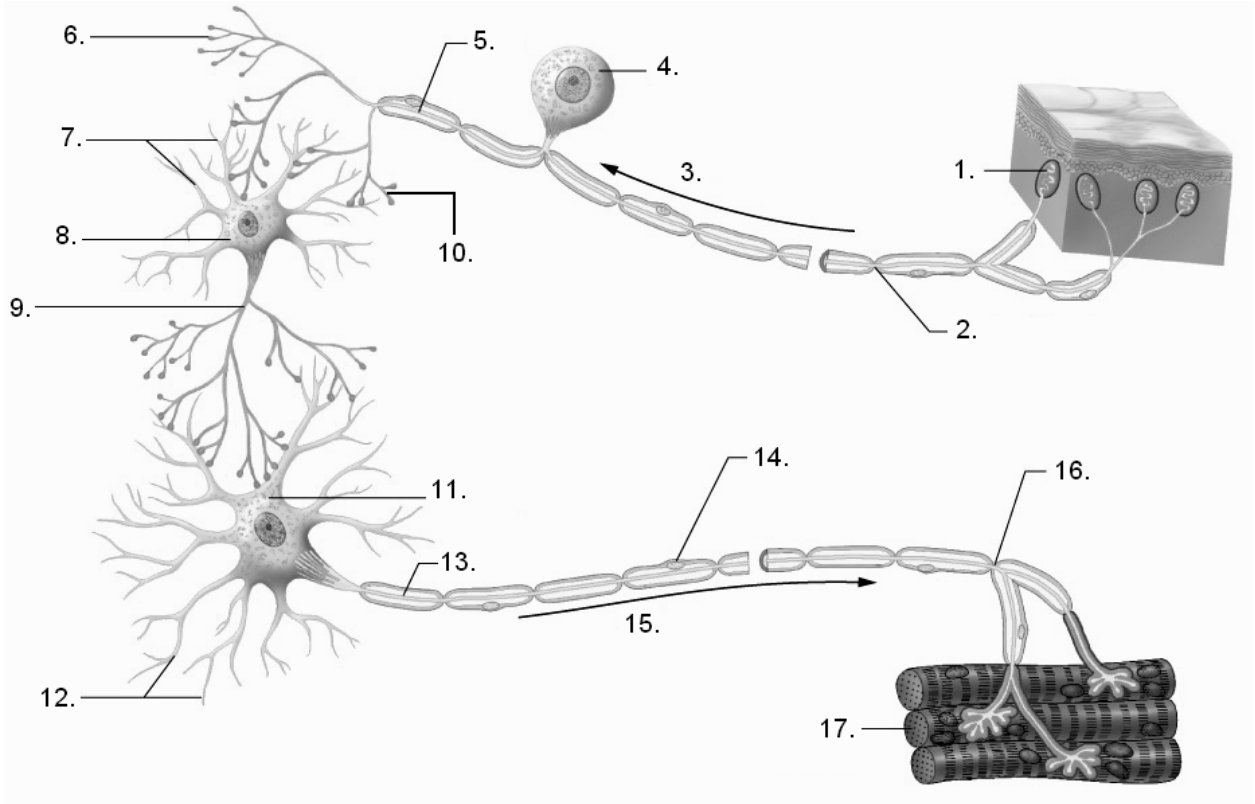
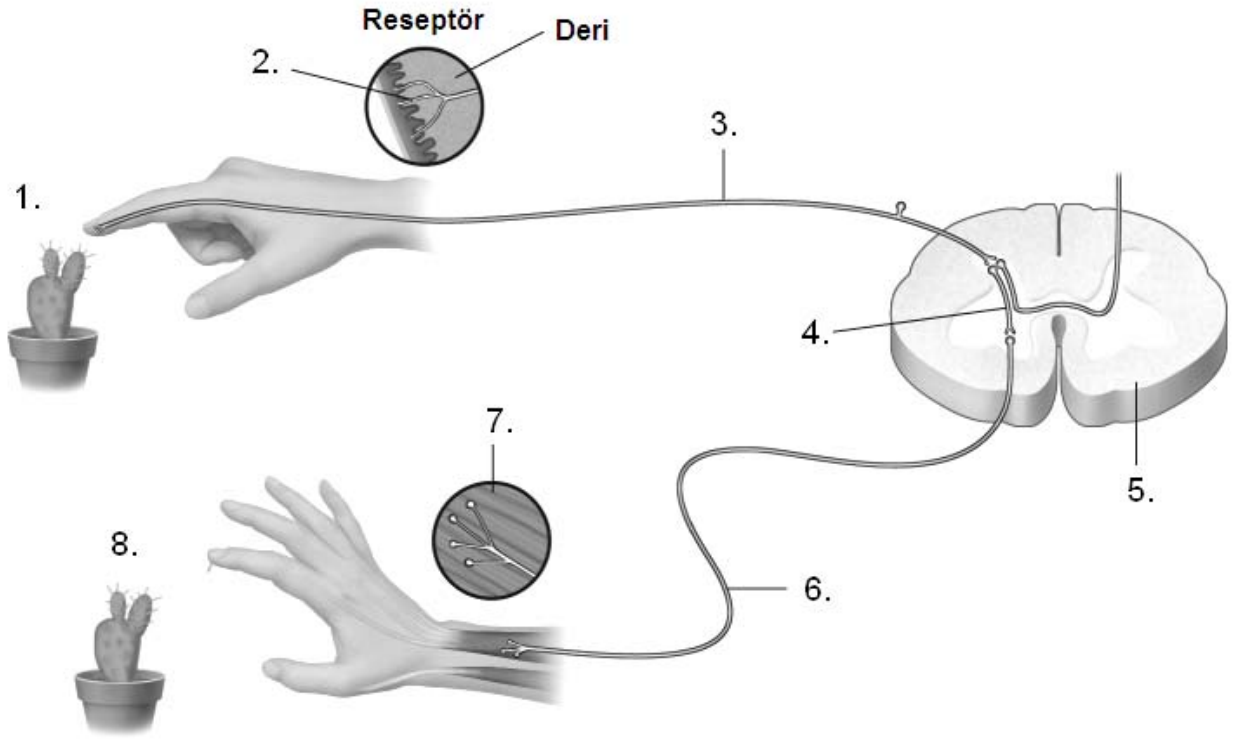


1-Aşağıda verilen sinir sistemi yapısı ve işleyişi ile ilgili resimdeki kısımları adlandırınız.



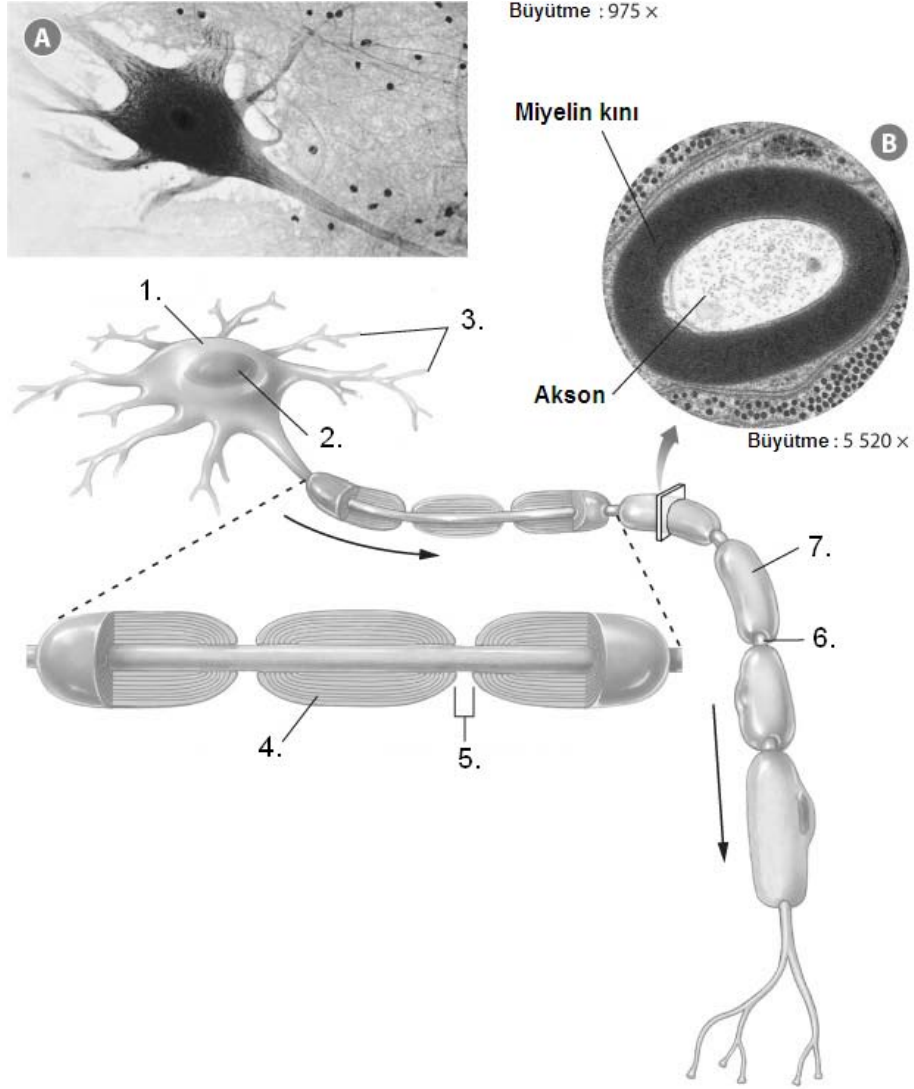
- | | | | |
|----|-------|-----|-------|
| 1. | _____ | 10. | _____ |
| 2. | _____ | 11. | _____ |
| 3. | _____ | 12. | _____ |
| 4. | _____ | 13. | _____ |
| 5. | _____ | 14. | _____ |
| 6. | _____ | 15. | _____ |
| 7. | _____ | 16. | _____ |
| 8. | _____ | 17. | _____ |
| 9. | _____ | | |

2-Bir reflex yayını gösteren aşağıdaki resimde işaretlenen kısım ve yapıları adlandırınız.



- | | | | |
|----|-------|----|-------|
| 1. | _____ | 5. | _____ |
| 2. | _____ | 6. | _____ |
| 3. | _____ | 7. | _____ |
| 4. | _____ | 8. | _____ |

3-Bir sinir hücresinin yapısını gösteren resindeki işaretli kısımları adlandırın.



1. _____
2. _____
3. _____
4. _____
5. _____
6. _____
7. _____